

**Uppgáva 1**

Umstytt framsagnimar:

**a**  $2a + 4a - 1\frac{1}{2}a$

**b**  $4a - (2a - 1)$

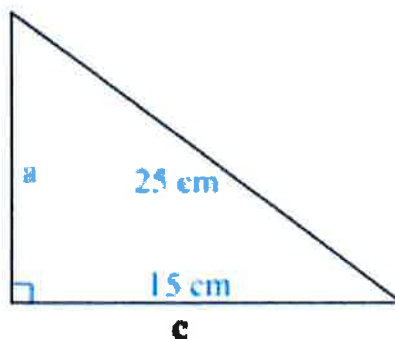
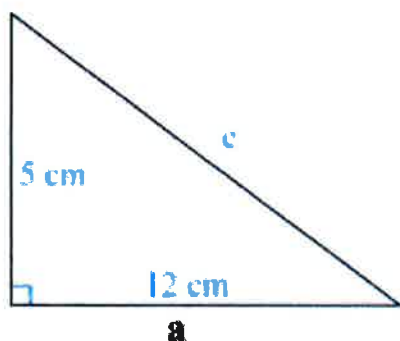
**c**  $4(2a + 3) - 2$

**Uppgáva 2**

$A = (-3, 3) \quad B = (1, 0) \quad C = (-10, -10) \quad D = (10, 0)$

**a** Rokna longdina á AB.**b** Rokna longdina á CD.**Uppgáva 3**

Rokna longdina á ókendu síðunum.



**Uppgáva 4**

Mánaðarlønin hjá Janusi hækkaði úr 20 500 kr  
upp í 21 700 kr.

Hvussu nógv prosent hækkaði mánaðarlønin.

**Uppgáva 5**

Tekna linjurnar  $l$  og  $m$ :

$$l: y = -2 \cdot x - 1$$

$$m: y = 2 \cdot x + 3$$

a Í hvørjum punkti skera linjurnar  
hvør aðra?

b Standa linjurnar  
vinkulrættar  
hvør á aðra?

**Uppgáva 6**

Linjan  $l$  gongur ígjøgnum  $A = (-2, 2)$  og  $B = (6, 6)$ .

Hvør er forskriftin hjá  $l$ ?

# 9 Út at ferðast

Pengarnir, sum tey ymisku londini brúka, verða undir einum nevndir valuta. Danmark, Føroyar og Grønland hava somu pengar. Vit nevna teir krónur og styttu til kr.

Í talvuni niðanfyri eru pengar í øðrum londum. Har stendur eisini, hvussu teir verða styttir. Harafturat er ein teigur við kursir.



## KURSUR

Kursurin sigur okkum, hvussu nógv 100 útlenskir pengar kosta.

Er kursurin á evrum 744, merkir tað, at vit skulu gjalda 744 kr fyri 100 evrur.

Land	Heiti á valuta	Valuta	Kursur	ε
Evropa	Evrur	EUR	744	
USA	Dollarar	USD	520	
Bretland	Pund	GBP	852	
Svøríki	Svenskar krónur	SEK	74	
Noreg	Norskar krónur	NOK	86	
Sveis	Sveisiskir frankar	CHF	491	
Turkaland	Turkiskir liral	TRY	349	
Pólland	Pólskir zloty	PLN	182	
Tjekkia	Tjekkiskir koruna	CZK	29	

Kursir 26. aug. 2009

## DØMI

Vit skriva altíð fyrst kursin, og so fara vit at rokna.

### 1. dømi

Hvussu nógv krónur fær ein fyri 800 Sveisiskar frankar (CHF)?

Kursur 491.

Tað merkir 100 CHF = 491 kr.

100 CHF = 491 kr

$1 \text{ CHF} = \frac{491}{100} = 4,91 \text{ kr}$

$800 \text{ CHF} = 800 \cdot 4,91 \text{ kr} = 3928 \text{ kr}$

### 2. dømi

Hvussu nógv bretsk pund (GBP) fær ein fyri 1000 kr?

Kursur 852.

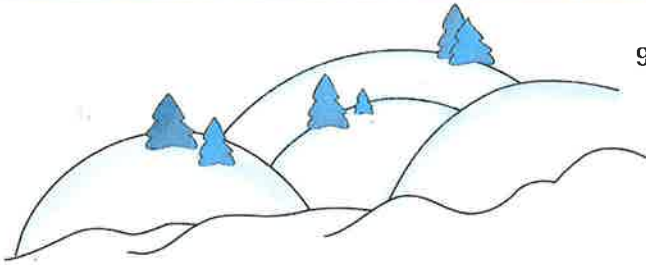
Tað merkir 100 GBP = 852 kr.

100 GBP = 852 kr

852 kr = 100 GBP

$1 \text{ kr} = \frac{100}{852} = 0,12 \text{ GBP}$

$852 \text{ kr} = 852 \cdot 0,12 \text{ kr} = 102,24 \text{ GBP}$



910 Tordis fer til Prag og ætlar at gista í 4 nætur fyrir til samans 9550 CZK. Flogferðin kostar 3400 kr aftur og fram.

- a Hvussu nógv kostar ferðin?
- b Hvussu nógv kostar tað at gista 1 nátt?

911 Óli, Sæunn og bæði børnini fara til Madrid í Spania, og tey skulu gista har í 7 nætur.

Flogseðlarnir kosta 1315 kr fyrir hvønn úr Keypmannahavn og aftur. Tey hava leigað eitt hotellkamar við 4 songum fyrir 155 EUR fyrir náttina.

Tey hava gjørt av, at ferðin ikki má kosta meiri enn 18 000 kr.

- a Hvussu nógv hava tey til mat og undirhald?

Í Madrid keypir Sæunn einar skógvar fyrir 143 evrur.

- b Hvussu nógv er tað í okkara peningi?

Óli keypir einar buksur fyrir 72 evrur.

- c Hvussu nógv er tað í okkara peningi?

912 Stóri dreymurin hjá Valgerð er at fáa eitt Nikonfototól, sum hjá okkum kostar 8250 kr.

Í Sveis kostar tað 1625 CHF.

- a Hvussu stórir er prímunurin?
- b Loysir tað seg at keypa tað í Sveis?

913 Herálvur skal á skiðferð í Fraklandi. Einar skiðir, sum her heima kosta 3850 kr, kann hann keypa fyrir 435 evrur í Fraklandi.

- a Hvussu stórir er prímunurin?
- b Hvar er tað bíligari hjá Herálvi at keypa skiðir?

914 Skulu vit sammeta prísirnar í ymiskum londum, kunnu vit t.d. kanna, hvussu nógv ein døgurði kostar.

Vit siga, at ein døgurði kostar 140 kr í Føroyum.

- a Hvussu nógv kostar sami døgurði í evrum?
- b Hvussu nógv kostar sami døgurði í pólskum zloty?
- c Hvussu nógv kostar sami døgurði í norskum krónum?
- d Hvussu nógv kostar sami døgurði í turkiskum lirum?

